

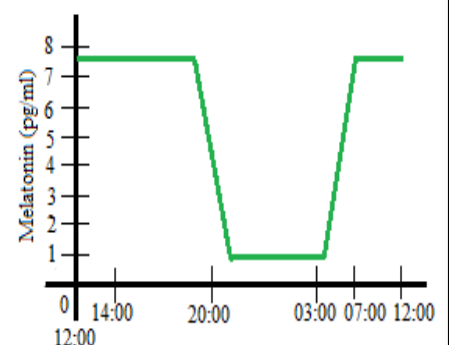
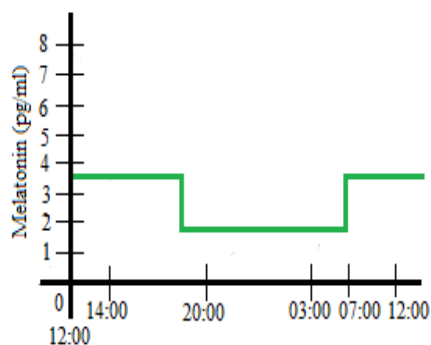
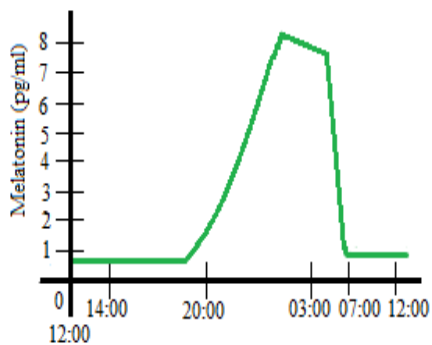


PRACOVNÍ LIST



Zadání:

1. Na obrázku jsou znázorněné tři grafy. Zakroužkuj, který z těchto grafů odpovídá tvorbě melatoninu v průběhu dne.



2. Odpověz na otázky.

Jak se přezdívá melatoninu?

.....

Ve které části dne se tvoří melatonin?

.....

Po jaké době přibližně začíná produkce melatoninu?

.....

Čím je melatonin produkován?

.....

Jak se nazývají buňky, které přijímají informace o světle?

.....

Co může způsobit nedostatek melatoninu v těle?

.....